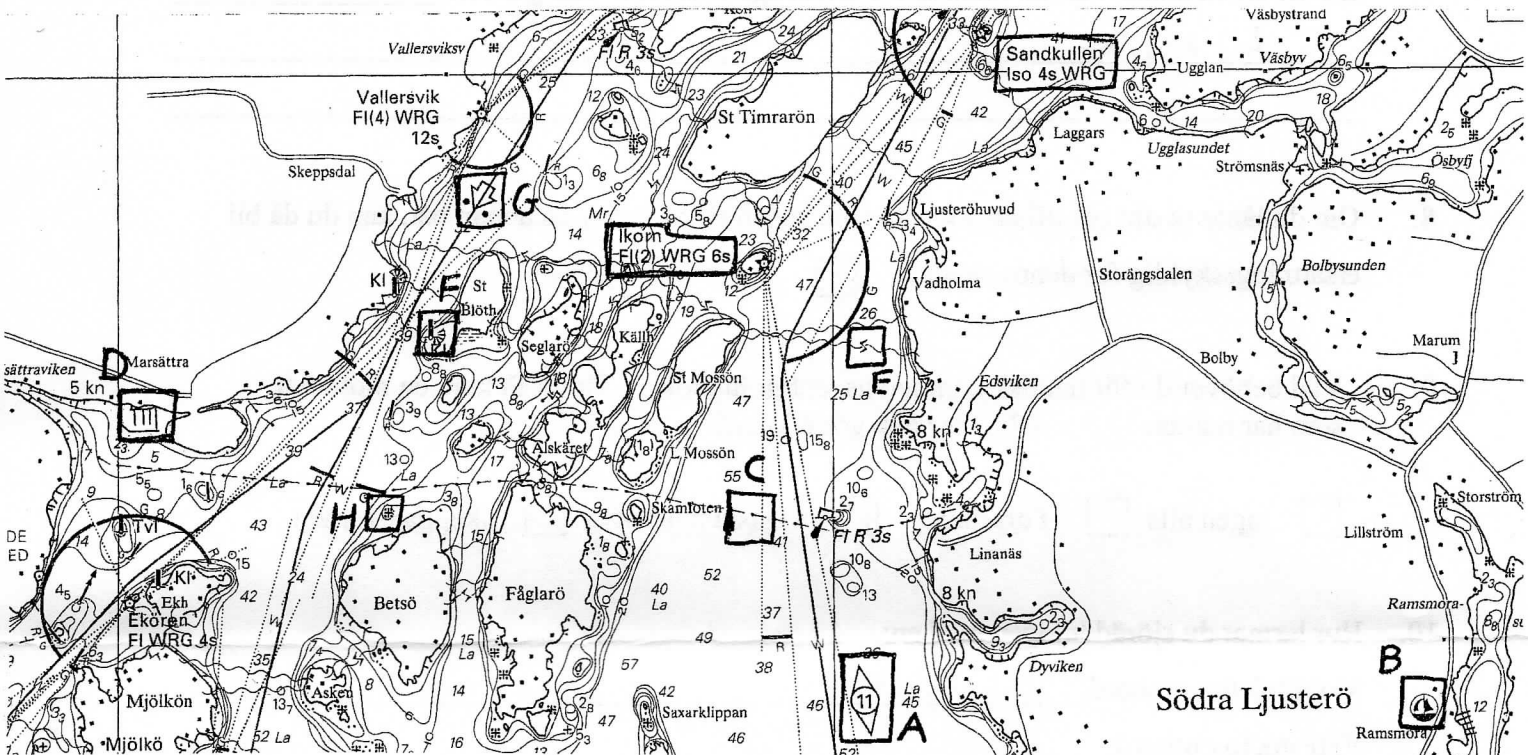






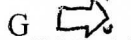
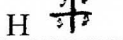


1. Vilken publikation ger dig möjlighet att hålla dina svenska sjökort aktuella?

URS

2. Vad betyder sjökortssymbolerna?





- | | | | |
|---|---------------------|---|---------------------------|
| A  | Radirapp-plt | B  | Gästhamn |
| C  | Rödledning | D  | Småbåtar U |
| E  | Undervattenshål | F  | Fast sjömärke m radarviff |
| G  | Ledning huvudvinkel | H  | Brennise |

3. Hur lyser fyren: (rita diagram eller beskriv med ord)

Sandkullen Ljus 2 sek mörk 2 sek

Ush

Ikorn



4. Rita in på vilken sida du går om prickarna.

